

ՄԻԱՍՆԱԿԱՆ ՔՆՆՈՒԹՅՈՒՆ

2022

ԱՇԽԱՐՀԱԳՐՈՒԹՅՈՒՆ

ԹԵՍՏ 7

Խմբի համարը

Նստարանի համարը

Հարգելի դիմորդ

Խորհուրդ ենք տալիս առաջադրանքները կատարել ըստ հերթականության: Ուշադիր կարդացե՛ք յուրաքանչյուր առաջադրանք և պատասխանների առաջարկվող տարբերակները: Եթե Ձեզ չի հաջողվում որևէ առաջադրանքի անմիջապես պատասխանել, ժամանակը խնայելու նպատակով կարող եք այն բաց թողնել և դրան անդրադառնալ ավելի ուշ:

Ձեր առջև դրված թեստ-գրքույկի էջերի դատարկ մասերը ազատորեն կարող եք օգտագործել սևագրության համար: **Թեստ-գրքույկը չի ստուգվում: Ստուգվում է միայն պատասխանների ձևաթուղթը:**

Առաջադրանքները կատարելուց հետո չմոռանաք պատասխանները ուշադիր և խնամքով նշել պատասխանների ձևաթղթում: Պատասխանների ձևաթղթի ճիշտ լրացումից է կախված Ձեր քննական միավորը:

Մաղթում ենք հաջողություն:

1

Օգտվելով քարտեզագրական հետազոտության մեթոդից՝ քարտուրսի սալերի տեղաշարժերի տեսությունը մշակեց.

- 1) Վ. Դոկուչանը
- 2) Օ. Շմիդտը
- 3) Ա. Հումբոլդտը
- 4) Ա. Վեգեները

2

Լիալուսինը կեսգիշերին երևում է.

- 1) հարավում
- 2) արևմուտքում
- 3) արևելքում
- 4) հյուսիսում

3

Ռոքա ն է հարավարևմտյան կողմի ազիմուտը:

- 1) 270°
- 2) 315°
- 3) 135°
- 4) 225°

4

Նկարում 1-ում ի՞նչ պրոյեկցիա է պատկերված:

- 1) գլանային
- 2) կոնային
- 3) հասարակածային
- 4) ազիմուտային



Նկար 1

5

Երկու կետերի իրական հեռավորությունը 48 կմ է: 1 : 800 000 մասշտաբի քարտեզում նրանց հեռավորությունը կլինի.

- 1) 60 սմ
- 2) 600 սմ
- 3) 0,6 սմ
- 4) 6 սմ

6

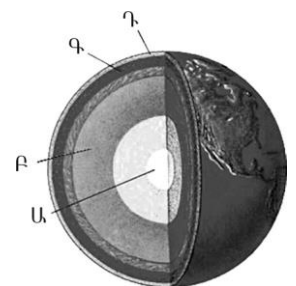
Ո՞ր պնդումն է ճիշտ:

- 1) Հասարակածում ցերեկվա տևողությունը ամենաերկարը մարտի 21-ին և սեպտեմբերի 23-ին է:
- 2) Հասարակածում ամբողջ տարվա ընթացքում գիշերվա ու ցերեկվա տևողություններն իրար հավասար են:
- 3) Հասարակածում ցերեկվա տևողությունը ամենաերկարը հունիսի 22-ին է:
- 4) Հասարակածում ցերեկվա տևողությունը ամենաերկարը դեկտեմբերի 22-ին է:

7

Նկար 2-ում ո՞ր տառով է նշված երկրագնդի ներքին միջուկը:

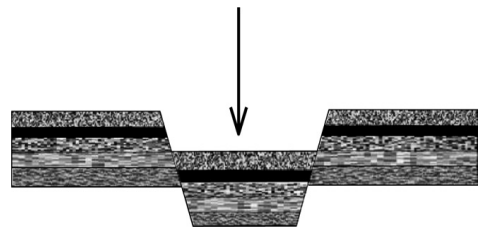
- 1) Գ
- 2) Դ
- 3) Ա
- 4) Բ



նկար 2

8

Նկար 3-ում ի՞նչ է պատկերված:



նկար 3

- 1) պլատֆորմ
- 2) գետսինկլինալ
- 3) հորստ
- 4) գրաբեն

9

12 ամիսների օդի միջին ջերմաստիճանների գումարը բաժանելով տարվա ամիսների քանակի վրա՝ կարելի է որոշել օդի.

- 1) ջերմաստիճանի լայնույթը
- 2) միջին ամսական ջերմաստիճանը
- 3) առավելագույն ջերմաստիճանը
- 4) միջին տարեկան ջերմաստիճանը

10

Ընտրել կլիմայի բնորոշ գծերի և կլիմայի տիպերի համապատասխանությունների ճիշտ շարքը.

- | | |
|---|----------------------|
| 1. ջերմաստիճանի մեծ տատանումներ և տարվա ընթացքում անհավասարաչափ բաշխված քիչ տեղումներ | ա. ծովային կլիմա |
| 2. ջերմաստիճանի փոքր տատանումներ և ամբողջ տարին թափվող առատ տեղումներ | բ. մուսսոնային կլիմա |
| 3. մեղմ ու խոնավ ձմեռներ և տաք ու չոր ամառներ | գ. ցամաքային կլիմա |
| 4. ցուրտ ու չոր ձմեռներ և տաք ու խոնավ ամառներ | դ. միջերկրածովային |

- 1) 1-գ, 2-ա, 3-դ, 4-բ
- 2) 1-բ, 2-գ, 3-ա, 4-դ
- 3) 1-բ, 2-գ, 3-դ, 4-ա
- 4) 1-գ, 2-ա, 3-բ, 4-դ

11

Օվկիանոսի առափնյա գոտում մինչև 200մ խորությամբ տեղամասը կոչվում է.

- 1) մայրցամաքային լանջ
- 2) ցածրավայր
- 3) մայրցամաքային ծանծաղուտ
- 4) փողրակ

12

Ո՞ր պնդումն է ճիշտ.

- 1) Լեռնային շրջաններում գետերի ջրբաժանն անցնում է լեռնաշղթաների ստորոտի ամենացածր մասով:
- 2) Տարվա ընթացքում գետի ջրի մակարդակի տատանումները կոչվում է գետի տարեկան հոսք:
- 3) Ամեն տարի՝ նույն սեզոնին, գետի ջրի քանակի ավելացման երևույթը կոչվում է ծախս:
- 4) Գետի թեքությունը գետի անկման հարաբերությունն է նրա երկարությանը:

13

Տարվա ընթացքում ո՞ր լճերի մակերեսն է զգալիորեն փոխվում.

- 1) Էրի և Օնեգա
- 2) Էյր և Չադ
- 3) Բայկալ և Բալխաշ
- 4) Վերին և Նյասա

14

Բնական համալիրներից ո՞րն է աչքի ընկնում հողի առավել բարձր բերրիությամբ.

- 1) անապատը
- 2) տափաստանը
- 3) տայգան
- 4) տունդրան

15

«Բնական զոնա-բնորոշ բուսատեսակ» գույգերից ընտրել ճիշտը.

- 1) փշատերև անտառ- հաճարենի, դափնի
- 2) սավաննա-շագանակենի, բոխի
- 3) մերձարևադարձային կոշտատերև անտառ-խցանակաղնի, քարակաղնի
- 4) խոնավ մերձարևադարձային անտառ-բաոբաբ, շաճառ

16

Ո՞ր պնդումն է սխալ.

- 1) Միջին դարաշրջանում երկրագնդի կլիման շոգ ու խոնավ էր, որի շնորհիվ աճում էին փարթած անտառներ:
- 2) Գոնդվանա հնագույն մայրցամաքը մասնատվել է հին՝ պալեոգոյան դարաշրջանի վերջերին:
- 3) Եվրասիա մայրցամաքն ամբողջությամբ Լավրասիա հնագույն մայրցամաքի մասն է:
- 4) Նոր դարաշրջանի վերջում կլիման զգալիորեն ցրտել է, և երկրագնդի հյուսիսային շրջանները սառցապատվել են:

17

Ո՞ր պնդումն է սխալ.

- 1) Աշխարհագրական թաղանթի շատ երևույթներ միասնական են և փոխապայմանավորված:
- 2) Աշխարհագրական թաղանթում տեղի է ունենում նյութերի և էներգիայի շրջապտույտ:
- 3) Աշխարհագրական թաղանթում տեղի ունեցող երևույթներն ու գործընթացները չեն կրկնվում:
- 4) Աշխարհագրական թաղանթի շատ երևույթներ ունեն գոտիական և զոնայական տարածում:

18

Ո՞ր պնդումն է ճիշտ.

- 1) Գաղութային անցյալը չի ազդել Աֆրիկայի երկրների սահմանների գծագրության ձևավորման վրա:
- 2) Պետական սահմանի անցկացումը կատարվում է 2 փուլով՝ սահմանարկման և սահմանագծման:
- 3) Պետության տարածքի ձևը չի ազդում տրանսպորտային ցանցի գծագրության, տարաբնակեցման բնույթի վրա:
- 4) Տարածքի մեծությունը քաղաքաաշխարհագրական գործոն չէ:

19

«Սահմանակից երկրներ-լեռներ» զուգորդումներից ընտրել սխալը.

- 1) Չինաստան-Հնդկաստան-Ալպեր
- 2) Արգենտինա-Չիլի-Անդեր
- 3) Ռուսաստան-Վրաստան-Մեծ Կովկաս
- 4) Ֆրանսիա-Իսպանիա-Պիրենեյներ

20

Խաղաղօվկիանոսյան երկրներ են.

- 1) Ճապոնիան և Ֆիլիպինները
- 2) Հունաստանը և Բուլղարիան
- 3) Նորվեգիան և Լյուքսեմբուրգը
- 4) Վրաստանը և Թուրքմենստանը

21

Էքսկլավ է.

- 1) Սվազիլենդը
- 2) Սան Մարինոն
- 3) Լեսոտոն
- 4) Ալյասկան

22

Ո՞ր պնդումն է սխալ.

- 1) Զարգացած երկրներում՝ բնակչության սեռային կազմում, կանանց թիվը գերազանցում է տղամարդկանց թվին:
- 2) Եվրոպական երկրներում ձևավորվել է բնակչության վերարտադրության առաջին տիպը:
- 3) Երբ ծնելիությունը հավասար է մահացությանը, վերարտադրությունը կոչվում է պարզ:
- 4) Զարգացող երկրներին բնորոշ է նեղ հիմքով, համեմատաբար լայն գագաթով սեռատարիքային բուրգ:

23 **Նոսր բնակեցված երկրներ են.**

- 1) Ինդոնեզիան և Ճապոնիան
- 2) Հայաստանը և Վրաստանը
- 3) Ավստրալիան և Կանադան
- 4) Գերմանիան և Ֆրանսիան

24 **Այն երևույթը, երբ ամրապնդվում է ազգի լեզվական և մշակութային ընդհանրությունը, և ազգը դառնում է ավելի միասնական և ամրակուռ, կոչվում է.**

- 1) ուրբանիզացիա
- 2) ասիմիլյացիա
- 3) ազլոմերացիա
- 4) կոնսոլիդացիա

25 **Համաշխարհային էլեկտրաէներգիայի արտադրության կառուցվածքում ամենամեծ բաժինն ունեն.**

- 1) աէլերը
- 2) մէլերը
- 3) ջէլերը
- 4) ջրէլերը

26 **Մեքենաշինության տեղաբաշխման սկզբունք չէ.**

- 1) տեղաբաշխումը խիտ բնակեցված վայրերում
- 2) տեղաբաշխումը գիտական կենտրոնների մոտ
- 3) տեղաբաշխումը վառելիքային բազաների մոտ
- 4) տեղաբաշխումը սպառման վայրերի մոտ

27 **Որոշել եզիպտացորենի ցանքատարածությունների մակերեսը, եթե եզիպտացորենի համախառն բերքը 12000 տ է, իսկ միջին բերքատվությունը՝ 30ց/հա.**

- 1) 36 կմ²
- 2) 42 կմ²
- 3) 60 կմ²
- 4) 40 կմ²

28 **Բնութագրումով որոշել լիճը.**

Ամուղարյա և Սիրդարյա գետերը թափվում են մնացորդային ծագման այդ լճի մեջ: Այդ գետերի ջրերը ոռոգման նպատակով օգտագործելու պատճառով լիճը ծանծաղել է: Ո՞ր լիճն է:

- 1) Բայկալ
- 2) Արալյան
- 3) Բալխաշ
- 4) Կասպից

29

Ո՞ր պնդումն է ճիշտ

- 1) Եվրասիայի ամենամեծ հարթավայրը Մեծ Չինականն է:
- 2) Եվրասիայի արևելյան և հարավարևելյան շրջաններում շատ են գործող հրաբուխները:
- 3) Եվրասիայի ամենացածր կետը Մերձկասպյան ցածրավայրում է:
- 4) Եվրասիայի տարածքի մեծ մասը պատկանում է Եվրոպային, իսկ փոքր մասը՝ Ասիային:

30

Աֆրիկայի մերձհասարակածային գոտիներում ամառային սեզոնին տեղումների քանակը կազմում է.

- 1) 250-300 մմ
- 2) 1800-2000 մմ
- 3) 500-600 մմ
- 4) 1500-1600 մմ

31

Ո՞ր շարքում *սիսալ* կա:

- 1) Դրակոնյան, Կապի
- 2) Բենգալյան, Կարմիր
- 3) Ասսալի, Քաթթարայի
- 4) Տանգանիկա, Նյասա

32

Ո՞ր պնդումն է *սիսալ*.

- 1) Բերինգի նեղուցով են միանում Չուկոտյան և Բերինգի ծովերը:
- 2) Բերինգի նեղուցով են միանում Խաղաղ և Հյուսիսային սառուցյալ օվկիանոսները
- 3) Բերինգի նեղուցով Հյուսիսային Ամերիկան բաժանվում է Եվրասիայից:
- 4) Բերինգի նեղուցով Չուկոտյան թերակղզին բաժանվում է Լաբրադոր թերակղզուց:

33

Ո՞ր պնդումն է *սիսալ*.

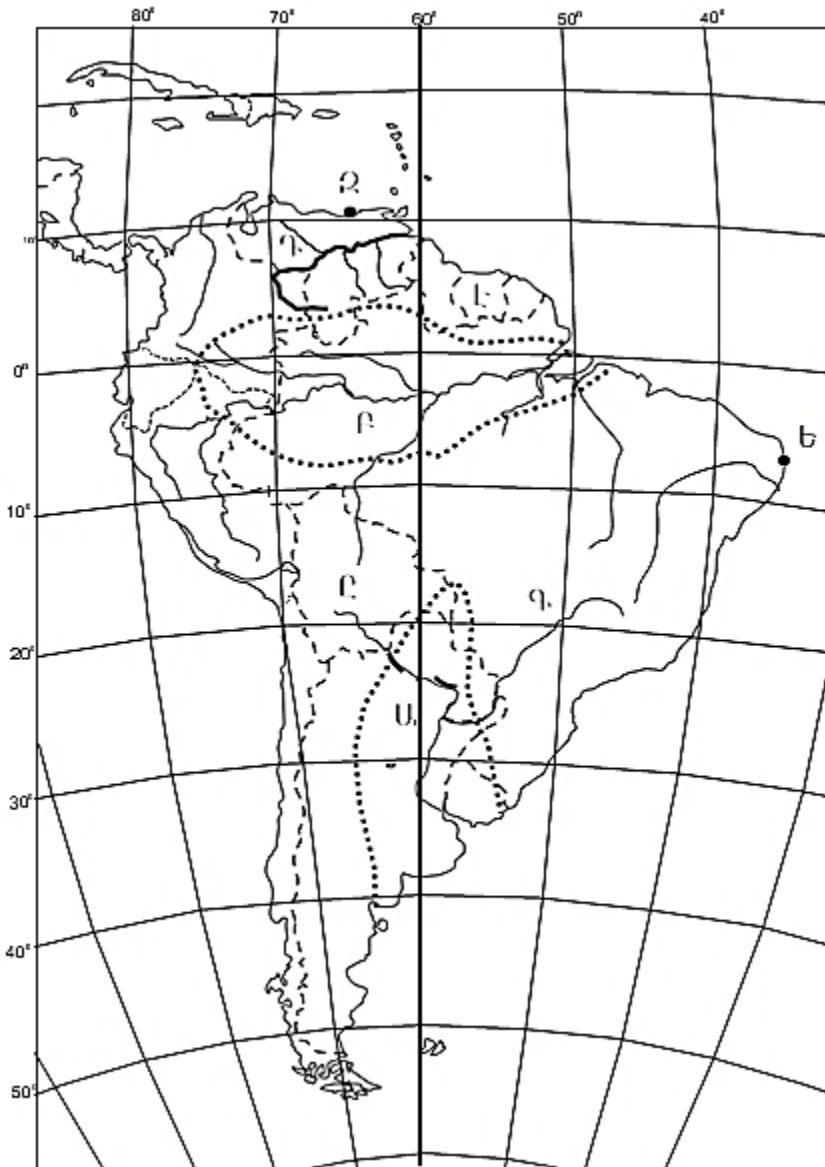
- 1) Ֆլորիդա թերակղզին արևադարձային գոտում է:
- 2) Նյուֆաունդլենդ կղզին բարեխառն գոտում է:
- 3) Ալյասկա թերակղզին բարեխառն գոտում է:
- 4) Յուկատան թերակղզին մերձհասարակածային գոտում է:

34

Ավստրալիայում ի՞նչ լեռներ կան:

- 1) Ավստրալական Ալպեր
- 2) Ավստրալական Հիմալայներ
- 3) Ավստրալական Անդեր
- 4) Ավստրալական Կարպատներ

քարտեզ 1



35

Քարտեզ 1-ի վրա ո՞ր տառով է նշված Լա Պլատայի դաշտավայրը:

- 1) Ա
- 2) Բ
- 3) Զ
- 4) Է

36

Քարտեզ 1-ի վրա ո՞ր տառով է նշված Օրինկո գետը:

- 1) Գ
- 2) Ը
- 3) Դ
- 4) Ե

37

Ռուսաստանի Դաշնության վերաբերյալ ո՞ր պնդումն է ճիշտ.

- 1) Աձիսի արդյունահանման խոշոր ավազաններից է Կուզբասը:
- 2) Ոսկու պաշարների հիմնական մասը տեղաբաշխված է երկրի եվրոպական մասում:
- 3) Նավթի պաշարներով ու արդյունահանմամբ աշխարհում գրավում է առաջին տեղը:
- 4) Էլեկտրակենտրոնների մեծ մասն արտադրվում է ջրային էլեկտրակայաններում:

38

Մեծ Բրիտանիայի վերաբերյալ ո՞ր պնդումն է ճիշտ.

- 1) Մայրցամաքից բաժանված է Ջիբրալթարի նեղուցով:
- 2) Հյուսիսային ծովի ծանծաղուտից արդյունահանում է նավթ ու բնական գազ:
- 3) Աշխարհի առավել անտառապատ երկրներից է:
- 4) Կլիման բարեխառն ցամաքային է:

39

Իտալիային պատկանող կղզի է.

- 1) Կորսիկան
- 2) Մալթան
- 3) Կրետեն
- 4) Սիցիլիան

40

Տրված գույգ քաղաքներից Ֆրանսիայում են.

- 1) Թուրինը և Բիրմինգհեմը
- 2) Դյուսելդորֆը և Լիլը
- 3) Լյուքսեմբուրգը և Մյունխենը
- 4) Լիոնը և Մարսելը

41

Դեպի Միջերկրական ծով ելք չունեցող պետություն է.

- 1) Լիբանանը
- 2) Սիրիան
- 3) Իսրայելը
- 4) Իրաքը

42

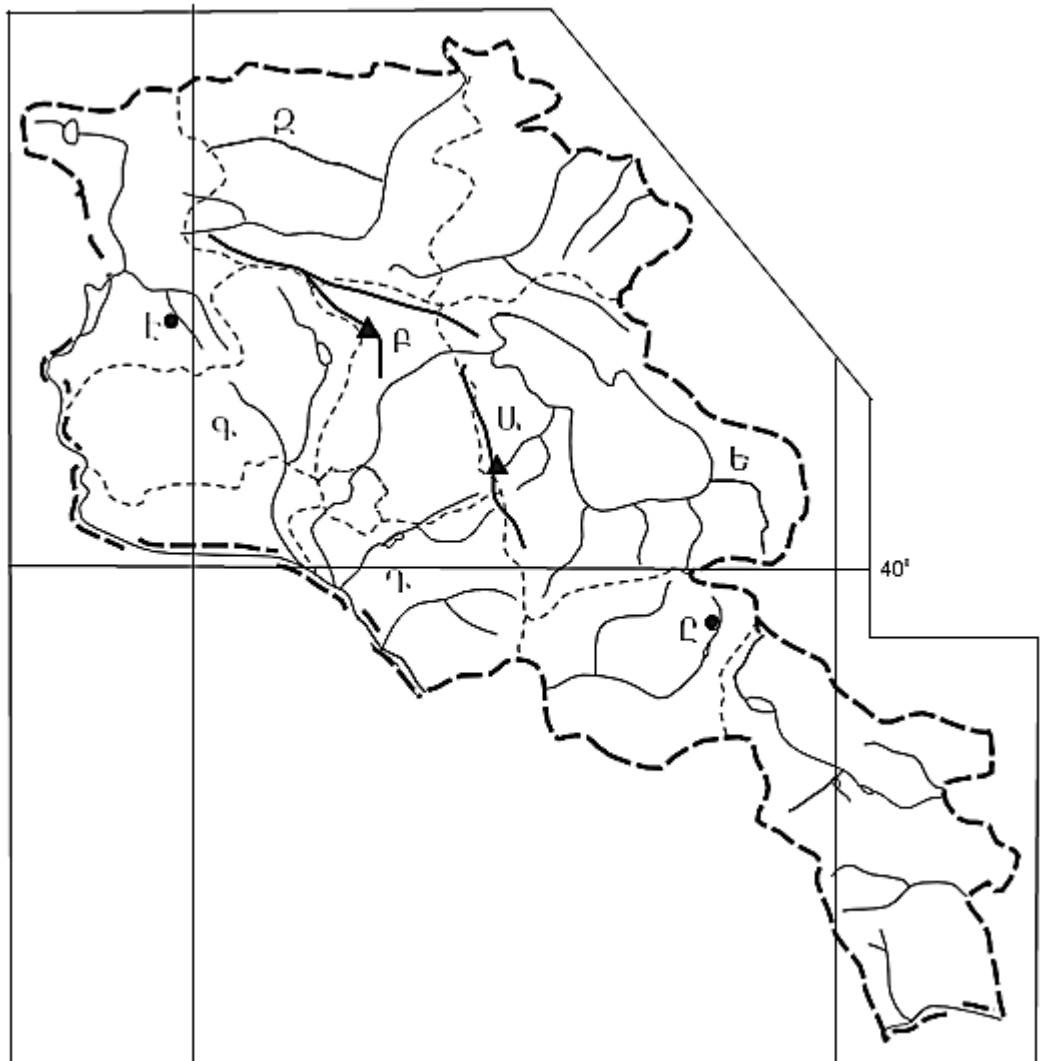
Հնդկաստանի վերաբերյալ ո՞ր պնդումն է սխալ:

- 1) Գյուղատնտեսության առաջատար ճյուղն անասնաբուծությունն է:
- 2) Ծանր արդյունաբերության առաջատար ճյուղերից է սև մետաղաձուլությունը:
- 3) Հինդուստան թերակղզու կենտրոնական մասում է տարածվում Դեկանի սարահարթը:
- 4) Ընդերքը հարուստ է երկաթի և քարածխի պաշարներով:

43

Աֆրիկայի վերաբերյալ ո՞ր պնդումն է սխալ.

- 1) Հյուսիսում արդյունաբերական խոշորագույն շրջանը պղնձի գոտին է:
- 2) Տրանսպորտի զարգացման մակարդակով աշխարհում գրավում է վերջին տեղը:
- 3) Գյուղատնտեսությունը բազմատնտեսաձև է:
- 4) Համեմատաբար լավ է զարգացած հանքարդյունաբերությունը:



քարտեզ 2

44

Քարտեզ 2-ում Արարատի մարզը ո՞ր տառով է նշված.

- 1) Դ
- 2) Ը
- 3) Է
- 4) Գ

45

Քարտեզ 2-ում Ածղահակ լեռնագագաթը ո՞ր տառով է նշված.

- 1) Բ
- 2) Ե
- 3) Զ
- 4) Ա

46

Ո՞ր շարքի միջլեռնային գոգավորություններն են տրված ըստ բարձրությունների աճման.

- 1) Մշո, Բալահովտի, Խարբերդի
- 2) Դերջանի, Երզնկայի, Կամախի
- 3) Մշո, Մանազկերտի, Ալաշկերտի
- 4) Երզնկայի, Կարնո, Նախիջևանի

47

ՀՀ –ի վերաբերյալ ո՞ր պնդումն է սխալ.

- 1) Սարահարթերի ցածրադիր մասերում և միջլեռնային գոգավորություններում գյուղերն ունեն հոծ դասավորություն և առաջացնում են համատարած գյուղական տարաբնակեցում:
- 2) Լեռնային շրջաններում գյուղերը երբեմն դասավորված են գետահովիտների հատակային մասերով անցնող երկաթուղիների կամ ավտոխճուղիների երկայնքով:
- 3) Բարձրալեռնային գյուղերից դեպի քաղաքներ և ցածրադիր բնակավայրեր կատարվող բնակչության արտահոսքի արդյունքում բազմաթիվ գյուղեր վերացել են:
- 4) Գյուղական բնակավայրերի միջին մարդաշատությունը վերջին տարիներին նվազել է:

48

Ոչ գյուղատնտեսական հումքի վրա հիմնված ՀՀ սննդի արդյունաբերության ճյուղ է.

- 1) հանքային ջրերի արտադրությունը
- 2) պանրագործությունը
- 3) պահածոների արտադրությունը
- 4) գինեգործությունը

49

ՀՀ ո՞ր մարզի տարածքի զգալի մասն է ընկած Փամբակ և Ձորագետ գետերի ավազաններում.

- 1) Լոռու
- 2) Տավուշ
- 3) Շիրակի
- 4) Կոտայքի

50

ԼՂՀ (Արցախի Հանրապետություն) անտառային գոտուն բնորոշ կենդանատեսակներ են.

- 1) օձն ու մողեսը
- 2) բեզոարյան այծը և գայլը
- 3) կրիան և ոզնին
- 4) գորշ արջն ու լուսանը

51

Տրվածներից ո՞րն է նպաստում մթնոլորտի մաքրության պահպանմանը.

- 1) կանաչապատ տարածքների ավելացումը
- 2) ասֆալտապատ տարածքների ընդարձակումը
- 3) անտառների հատումը
- 4) ցեմենտի արտադրության ավելացումը

52

«Բնական ռեսուրս – վերականգնման հատկություն» գույգերից ընտրել ճիշտը.

- 1) երկրաջերմային ռեսուրս – անսպառ
- 2) նավթային ռեսուրս – սպառվող - վերականգնվող
- 3) կենսաբանական ռեսուրս - անսպառ
- 4) կլիմայական ռեսուրս – սպառվող-վերականգնվող

53

Ջրավազաններն աղտոտող արհեստական նյութերից են.

- 1) գեյզերների ջրերում լուծված նյութերը
- 2) քիմիական պարարտանյութերը
- 3) ապարների քիմիական հողմահարման հետևանքով առաջացած նյութերը
- 4) հարթավայրային գետերով տեղափոխվող փայտանյութերը

54

Հողերի էրոզիայի առաջացման պատճառներից է.

- 1) արոտավայրերի գերարածեցումը
- 2) տնկարկների ոռոգումը
- 3) խոտհարքների օգտագործումը
- 4) վարելահողերի մշակումը

55

Ո՞ր պնդումն է ճիշտ

- 1) Տարածքային վեճերը երբեք խաղաղ ճանապարհով չեն լուծվում:
- 2) Եվրոպայում այլևս վիճելի տարածքներ գոյություն չունեն:
- 3) Գլոբալացումը երկրների և ժողովուրդների ազատ ինքնորոշման և սեփական ինքնության հաստատման երևույթն է:
- 4) Տարածքային հակամարտություններն, ըստ իրենց բնույթի, լինում են միջպետական և ներպետական:

56

Գրել Մեծ Անտիլյան կղզեխմբին պատկանող կղզիների համարները:

- | | |
|-----------------|---------------|
| 1) Վիկտորիա | 5) Գրենլանդիա |
| 2) Պուերտո-Ռիկո | 6) Հաիթի |
| 3) Կուբա | 7) Վանկուվեր |
| 4) Սարդինիա | 8) Ճամայկա |

57

Գրել այն մայրաքաղաքների համարները, որոնք իրենց երկրի ամենախոշոր քաղաքը չեն.

- | | |
|------------|-----------|
| 1) Կահիրե | 5) Թեհրան |
| 2) Բեյրութ | 6) Կիև |
| 3) Բեյջին | 7) Անկարա |
| 4) Մինսկ | 8) Բոգոտա |

58

Գրել այն երկրների համարները, որոնք տարածքով գերխոշոր են.

- | | |
|-------------|-------------|
| 1) Պակիստան | 5) Բրազիլիա |
| 2) Թուրքիա | 6) Գերմանիա |
| 3) Կանադա | 7) Ուկրաինա |
| 4) Ճապոնիա | 8) Նիգերիա |

59

Գրել այն երկրների համարները, որոնք հանրապետություններ են.

- | | |
|--------------|-----------------|
| 1) Եգիպտոս | 5) Շվեդիա |
| 2) Իսպանիա | 6) Լատվիա |
| 3) Ֆինլանդիա | 7) Դանիա |
| 4) Ճապոնիա | 8) Մեծ Բրիտանիա |

60

Գրել այն երկրների համարները, որոնց բնորոշ է «ժողովրդագրական ճգնաժամը».

- | | |
|-----------|-------------|
| 1) Սիրիա | 5) Ուկրաինա |
| 2) Եմեն | 6) Թուրքիա |
| 3) ԱՄՆ | 7) Իրան |
| 4) Կանադա | 8) Լատվիա |

61 Գրել բազմամետաղային հանքավայրերի համարները.

- | | |
|--------------|---------------|
| 1) Մեղրաձորի | 5) Շահումյանի |
| 2) Հրազդանի | 6) Սոթքի |
| 3) Աբովյանի | 7) Ախթալայի |
| 4) Թեժ լեռան | 8) Սվարանցի |

62 Տրված են Հայկական լեռնաշխարհի երեք խոշոր լճերը: Դասավորել դրանց համարները լճերի մակերեսների աճման կարգով:

- 1) Ուրմիա 2) Վանա 3) Սևանա

63 ՀՀ տրված բնակավայրերի համարները դասավորել ըստ արևոտ օրերի թվի աճման կարգով.

- 1) Մարտունի 2) Իջևան 3) Գյումրի

(64-65) Քաղաքի բնակչության թիվը 40 000 է, բնակչության բացարձակ մեխանիկական աճը՝ 800 մարդ: Ծնվածների թիվը 3000 մարդ է, մահացածների թիվը՝ 1500 մարդ:

64 Որոշել բնակչության բացարձակ բնական աճը:

65 Որոշել քաղաքի բնակչության թիվը մեկ տարի հետո:

66 Օդի բացարձակ խոնավությունը 10գ/մ^3 է, հարաբերական խոնավությունը՝ 40%: Որոշել հազեցման համար անհրաժեշտ ջրային գոլորշիների քանակը:

67

Վայրի աշխարհագրական կոորդինատներն են՝ հվ. լ. 38°, արլ. ե. 147°: Որոշել տվյալ վայրի ժամային գոտին:

68

Որքա՞ն մակերես կզբաղեցնի Չինաստանը (9,6 մլն կմ²) 1 : 40 000 000 մասշտաբի քարտեզում:

69

Հյուսիսային Ամերիկայի վերաբերյալ տրված պնդումներից որո՞նք են ճիշտ, որո՞նք՝ սխալ.

- 1) Լաբրադոր թերակղզում տունդրայի զոնայի հարավային սահմանը Ալյասկայի համեմատ ձգվում է բավականին հյուսիս:
- 2) Ամենաքիչ տեղումները դիտվում են Մեծ Ավազան սարահարթի գոգավորություններում:
- 3) Հյուսիսամերիկյան պլատֆորմի բյուրեղացած հիմքի մերկացած տեղամասերում առաջացել է Կոորդիլիերների լեռնային համակարգը:
- 4) Կլիմայի ձևավորման ամենամեծ ազդեցություն ունի Խաղաղ օվկիանոսը:
- 5) Ատլանտյան օվկիանոսի Լաբրադորյան և Խաղաղ օվկիանոսի Կալիֆոռնիական սառը ծովային հոսանքներն առափնյա շրջաններում առաջացնում են կլիմայի չորություն և օդի ջերմաստիճանի նվազում:
- 6) Հյուսիսային մասի մակերևույթի ձևավորման վրա մեծ ազդեցություն են թողել սառցադաշտերը:

70

ՀՀ Տավուշի մարզի վերաբերյալ տրված պնդումներից որո՞նք են ճիշտ, որո՞նք՝ սխալ.

- 1) Կլիման առավելապես չորային և խիտ ցամաքային է:
- 2) Թեթև արդյունաբերության առաջատար ենթաճյուղը գորգագործությունն է:
- 3) Հարավից դեպի հյուսիս շարժվելիս մակերևույթը աստիճանաբար բարձրանում է:
- 4) Գետերը պատկանում են առավելապես Արաքսի ավազանին:
- 5) ՀՀ միակ մարզն է, որը սահմանակից է թե՛ Վրաստանին, թե՛ Ադրբեջանին:
- 6) Հովտային շրջաններում լայն տարածում ունեն սողանքները: